

名前 ( )

1 2つの考え方で $10 \times 6$ の答えをもとめます。□にあてはまる数を答えましょう。

①  $10 \times 6 = 10 + 10 + 10 + 10 + 10 + 10$

$= \square$

$\square \times 6 = \square$

②  $10 \times 6$

$3 \times 6 = \square$

あわせて  $\square$

2 3つの考え方で $8 \times 10$ の答えをもとめます。□にあてはまる数はいくつですか。

①  $8 \times 10 = 8 \times 9 + \square$

$= \square$

$8 \times 3 = \square$

③  $8 \times 10$

$8 \times \square = \square$

②  $8 \times 10 = 10 \times \square$

$= \square$

あわせて  $\square$

3 □にあてはまる数をもとめましょう。

(1)  $6 \times \square = 18$

(2)  $8 \times \square = 32$

(3)  $4 \times \square = 36$

(4)  $\square \times 7 = 49$

(5)  $\square \times 9 = 54$

名前( )

1 つぎの 時間を もとめましょう。

(1)



[ ] 秒

(2)



[ ] 秒

(3) 80秒 = [ ] 分 [ ] 秒

(4) 1分50秒 = [ ] 秒

2 ( ) にあてはまる 時間の たんいを書きましょう。

(1) はみがきした 時間

3 ( )



(2) えいがを みた 時間

2 ( )



(3) 校庭一周 走った 時間

50 ( )



(4) 学校での そうじの 時間

15 ( )



2 りきさんは、算数のもんだいを103秒でとくことができました。  
なみさんは、1分38秒でとくことができました。どちらがどれだけ  
はやくとけたでしょう。せつめいもしましょう。

( ) さんの方が ( ) はやい。



\_\_\_\_\_

\_\_\_\_\_

\_\_\_\_\_

\_\_\_\_\_

名前 (

)

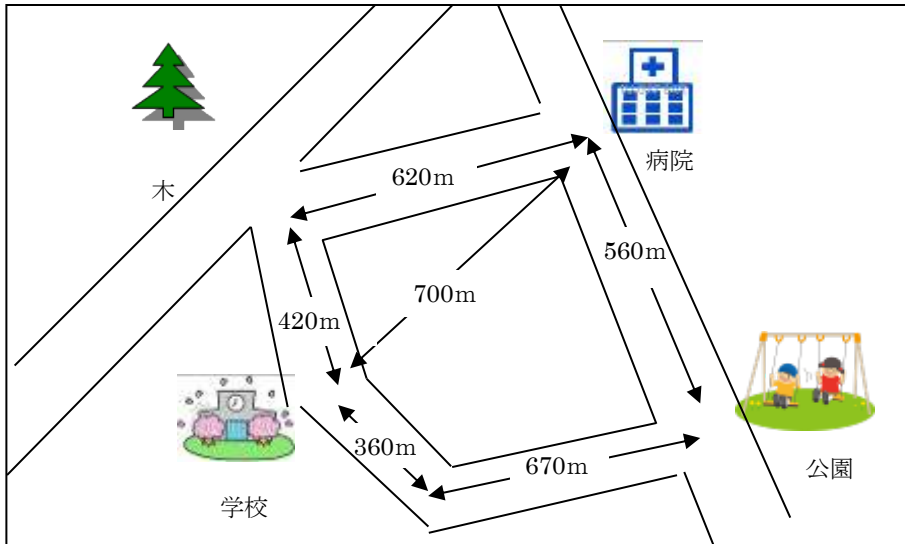
1 □にあてはまる数はいくつですか。

(1) 2500 m =  km  m

(2) 1 km 65 m =  m

(3) 5007 m =  km  m

2 下の絵地図を見て、いろいろな長さをもとめましょう。



(1) 学校から病院までのきよりは何mですか。

答え  m

(2) 学校から病院までの道のりは何km何mですか。2通りの行き方でもとめましょう。

☆ 木の前を通る行き方

式  答え  km  m

☆ 公園の前を通る行き方

式  答え  km  m

(3) 絵地図の中のいろいろな長さを使って問題を作り、長さをもとめましょう。




問題

式  答え  m

名前( )

1 12このいちごを1人4こずつ分けます。  
何人に分けることができますか。

(1) 問題文どおりにわけているのは  
どちらでしょう。( )に丸を付け  
ましょう



(2) 式を書いて、答えをもとめましょう。

(式)

答え \_\_\_\_\_ 人

2 わり算をしましょう。

(1)  $9 \div 1 =$

(2)  $4 \div 4 =$

(3)  $0 \div 6 =$

(4)  $5 \div 5 =$

(5)  $0 \div 3 =$

3 3年2組の24人で4人グループを作ります。何グループできるでしょうか。



(式)

答え

名前 ( )

1 もんだいを読んで、答えましょう。

さいふの中に768円入っています。349円のバックを買うと、さいふの中には何円のこりですか。

式

答え

ひっ算



2 計算をしましょう。

(1)  $643 - 255$


(2)  $302 - 148$


(3)  $608 - 499$


(4)  $348 - 72$


(5)  $564 + 43$


(6)  $97 + 203$


3 次のひっ算のまちがいを見つけて、正しく計算しましょう。また、何がまちがっているのか説明しましょう。

$626 - 24$

$$\begin{array}{r} 626 \\ -24 \\ \hline 386 \end{array}$$

(正しいひっ算)

(まちがえているところ)